

1.

Сосчитай, сколько областей в картинке, заполни окно в ответе.

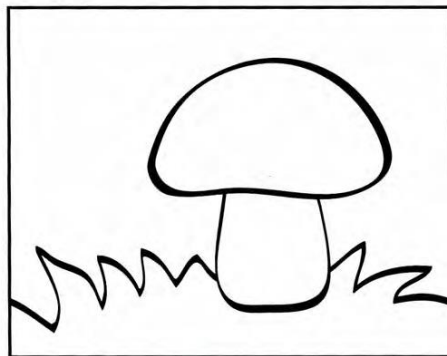


1
2
3
4
5
6
7
8

Ответ: в этой картинке областей.

2.

Сосчитай, сколько областей в картинке, заполни окно в ответе. Фон картинки (внутри рамки) тоже нужно считать.



1
2
3
4
5
6
7
8
9

Ответ: в этой картинке областей.

3.

Сосчитай, сколько областей в картинке, заполни окно в ответе.




1
2
3
4
5
6
7
8
9
10

Ответ: в этой картинке областей.

4.


Сосчитай, сколько областей в картинке, заполни окно в ответе.



Ответ: в этой картинке областей.

5.

Сосчитай, сколько областей в картинке, заполни окно в ответе. Фон картинки (внутри рамки) тоже нужно считать.



Ответ: в этой картинке областей.