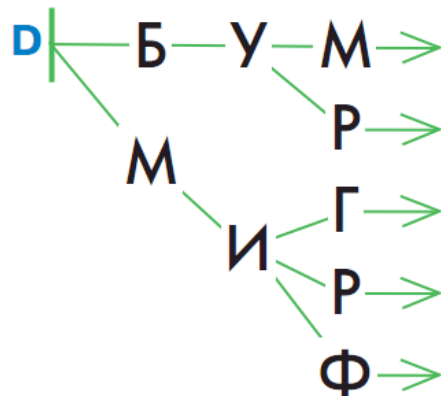


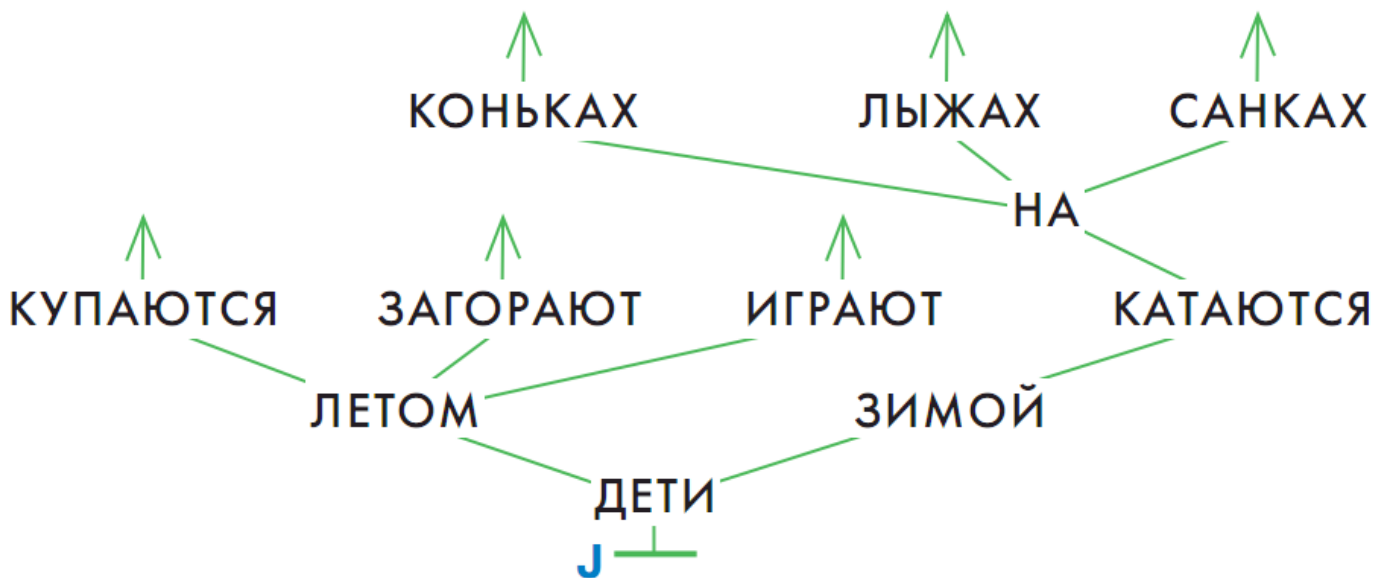
№1

Нарисуй в окне три пути дерева D.



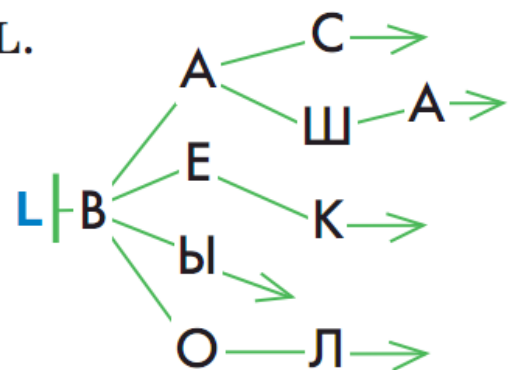
№2

Нарисуй в окне четыре пути дерева J.



№3

Напиши в мешке все пути дерева L.

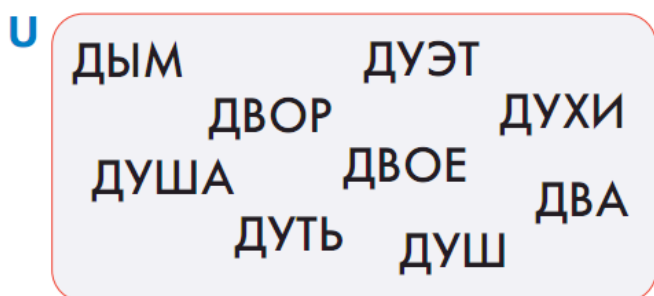


№4

Нарисуй в окне дерево бусин, в котором ровно пять уровней вершин, ровно три пути длины 2, ровно четыре пути длины 4 и ровно пять путей длины 3.

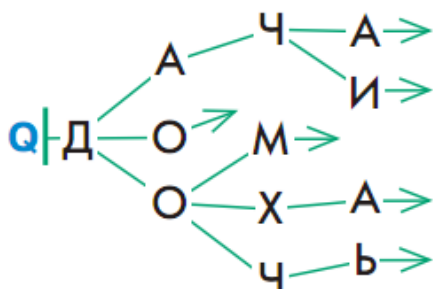
№5

Нарисуй в окне такое дерево букв, чтобы мешок U был мешком всех путей этого дерева.



№6

Напиши в окне в мешке все пути дерева Q.



№7

Напиши в окне в мешке все пути дерева S.

